




# Ab-28: Nagetiere im Vergleich

## Arbeitsblatt

Welches Merkmal trifft auf welches Nagetier zu? Schreibe die richtigen Zahlen in die Spalten!

| Nagetierart      | Wanderratte   | Siebenschläfer  | Bisamratte  |  |
|------------------|---|---|---|--|
|                  |  |  |  |  |
| Lebensraum       |   |   |   | 1 Laubwälder und Gärten<br>2 Gewässer aller Art<br>3 Kanalsystem und Müllhalde                       |
| Schlafplatz      |   |   |   | 1 unterirdische Erdbaue<br>2 Erdbaue im Ufer oder Burgen im Wasser<br>3 in Baumlöchern, am Dachboden |
| Aussehen Schwanz |   |   |   | 1 nackt, schuppig und seitlich zusammengedrückt<br>2 lang, wenig behaart<br>3 buschig                |
| Jahresaktivität  |   |   |   | 1 im Winter aktiv<br>2 Winterschlaf  |
| Nahrung          |   |   |   | 1 Wasser- und Uferpflanzen<br>2 Allesfresser<br>3 Knospen, Früchte, Beeren                           |

# Ab-28: Nagetiere im Vergleich

Auflösung

Welches Merkmal trifft auf welches Nagetier zu? Schreibe die richtigen Zahlen in die Spalten!

| Nagetierart      | Wanderratte   | Siebenschläfer  | Bisamratte  |  |
|------------------|---|---|---|--|
|                  |  |  |  |  |
| Lebensraum       | <b>3</b>  | <b>1</b>  | <b>2</b>  | 1 Laubwälder und Gärten<br>2 Gewässer aller Art<br>3 Kanalsystem und Müllhalde                       |
| Schlafplatz      | <b>1</b>  | <b>3</b>  | <b>2</b>  | 1 unterirdische Erdbaue<br>2 Erdbaue im Ufer oder Burgen im Wasser<br>3 in Baumlöchern, am Dachboden |
| Aussehen Schwanz | <b>2</b>  | <b>3</b>  | <b>1</b>  | 1 nackt, schuppig und seitlich zusammengedrückt<br>2 lang, wenig behaart<br>3 buschig                |
| Jahresaktivität  | <b>1</b>  | <b>2</b>  | <b>1</b>  | 1 im Winter aktiv<br>2 Winterschlaf  |
| Nahrung          | <b>2</b>  | <b>3</b>  | <b>1</b>  | 1 Wasser- und Uferpflanzen<br>2 Allesfresser<br>3 Knospen, Früchte, Beeren                           |